
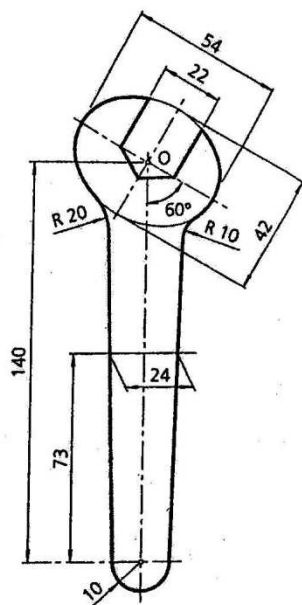
 GOBIERNO DE ARAGON Departamento de Educación, Universidad, Cultura y Deporte	PREMIOS EXTRAORDINARIOS DE BACHILLERATO Convocatoria 2013-2014
SEGUNDA PRUEBA EJERCICIO 4	Respuesta a cuestiones y resolución de ejercicios prácticos sobre Dibujo Técnico II

1. Realiza el dibujo dado a escala 1:1 dejando indicados todos los pasos necesarios para su construcción.

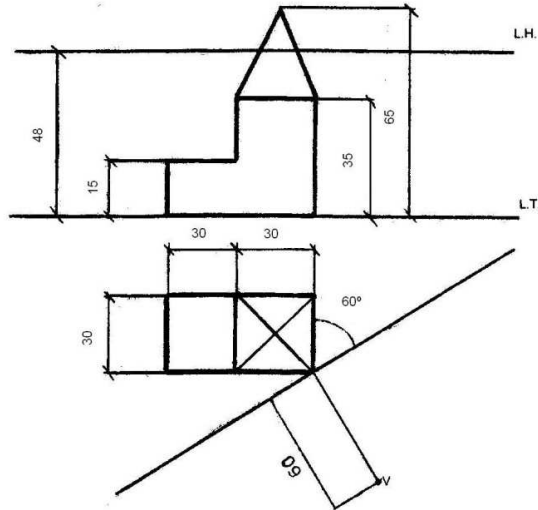
Marca los centros obtenidos y los puntos de tangencia.



2. Representa la cónica oblicua a escala 1:1 con los datos indicados.

Altura del punto de vista 48mm.

Distancia principal 60mm.



L.H.

Criterios de evaluación

Ejercicio 1.

Geometría plana. Tangencias. **(5 puntos)**

- Exactitud en la solución: 2,5 puntos
- Elección de las construcciones adecuadas (óvalos, ovoides): 2 puntos
- Delineación y limpieza: 0,5 puntos
- No hace falta acotar la pieza

Ejercicio 2.

Perspectiva cónica. **(5 puntos)**

- Exactitud en la solución: 2,5 puntos
- Elección de construcciones auxiliares adecuadas: 2 puntos
- Delineación y limpieza: 0,5 puntos